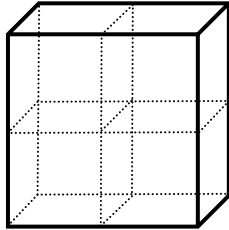


$\pi$ **Esercizi sul volume e l'area dei solidi**

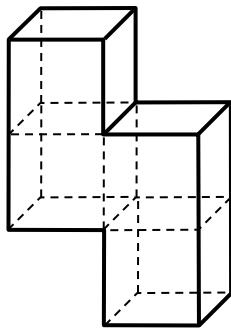
Nelle seguenti situazioni calcola il volume e l'area dei solidi proposti

1)



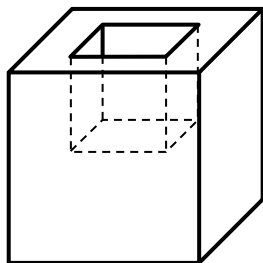
Solido formato dall'unione di 4 cubi di 2 cm di lato.

2)



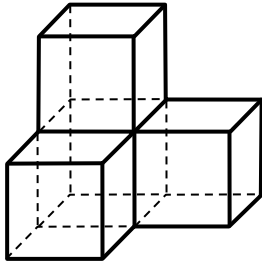
Solido formato dall'unione di 4 cubi di spigolo 2 cm.

3)



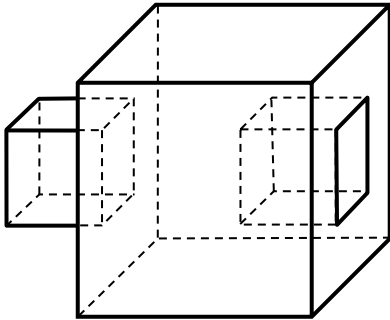
Solido formato da un cubo di spigolo 4 cm a cui è stato tolto un cubo di 2 cm di spigolo.

4)



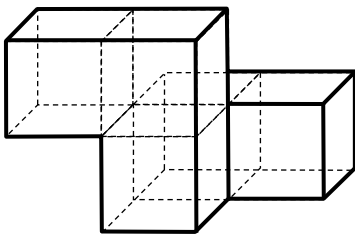
Solido formato unendo tra loro 4 cubi di spigolo 2 cm

5)



Solido formato da un cubo di spigolo 5 cm a cui è stato tolto e poi aggiunto su un'altra faccia un cubo di 2 cm di spigolo.

6)



Solido formato da 5 cubi di 2 cm di lato.