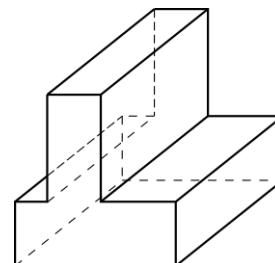
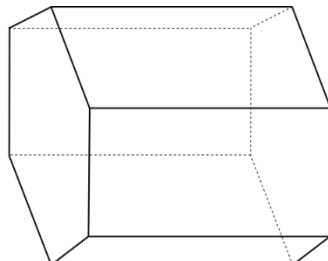
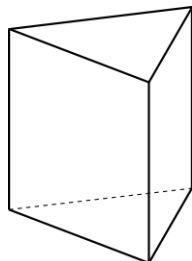
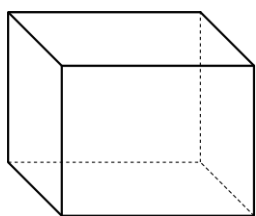


π **Relazione tra il numero di lati della base e il numero di vertici, spigoli e facce di un prisma**

Completa la tabella:

Nome	Numero di lati della base del prisma	Numero di vertici del prisma	Numero di spigoli del prisma	Numero di facce del prisma
Prisma triangolare	3			
Prisma quadrangolare	4			
Prisma pentagonale	5			
Prisma esagonale	6			
Prisma ettagonale	7			
Prisma ottagonale	8			
Prisma ennagonale	9			
Prisma decagonale	10			
...				
Prisma n-agonale	n			