

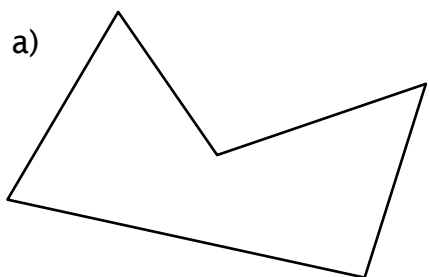


Per ragionare sull'attività introduttiva hai dovuto calcolare il **perimetro** del terreno, cioè la misura del suo contorno.

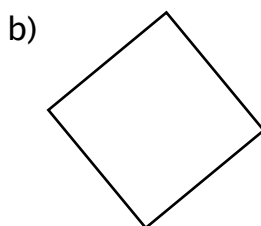
Per calcolare il perimetro di un poligono bisogna sommare le lunghezze dei suoi lati.

### Esercizi di apprendimento

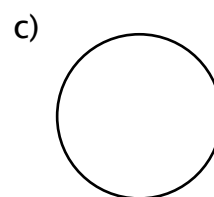
1. Determina il perimetro delle seguenti figure, prendendo le misure direttamente dal disegno.



.....

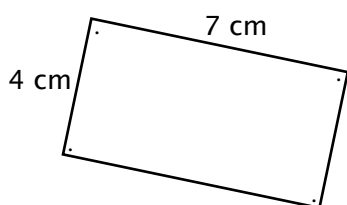


.....

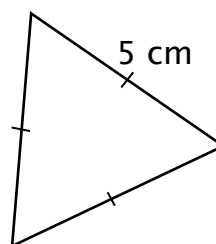


.....

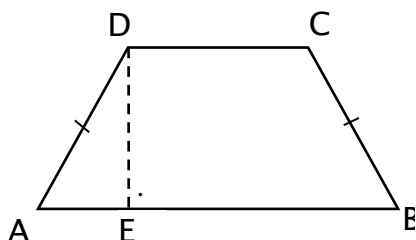
2. Calcola il perimetro di queste figure, usando le misure indicate sul disegno.



.....



.....



$$|AB| = 11 \text{ cm}$$

$$|DC| = 6 \text{ cm}$$

$$|DE| = 3 \text{ cm}$$

.....

.....