
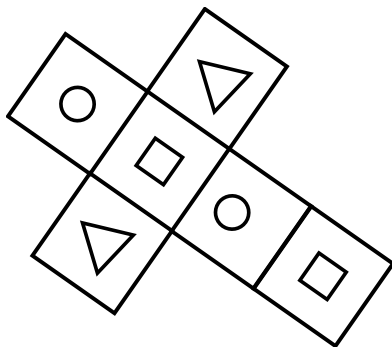


Attività sullo sviluppo del cubo

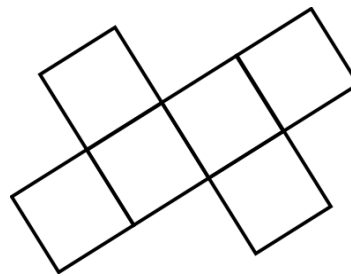


Quali dei seguenti disegni rappresenta lo sviluppo di un cubo?
 Se si tratta dello sviluppo di un cubo indica con un simbolo uguale le facce tra loro opposte come nell'esempio.

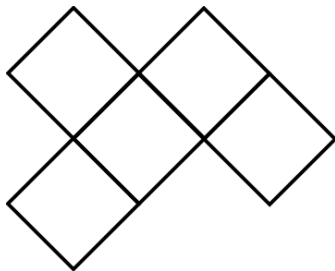
a) Sviluppo? Si No



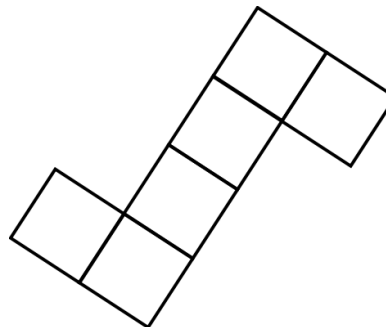
b) Sviluppo? Si No



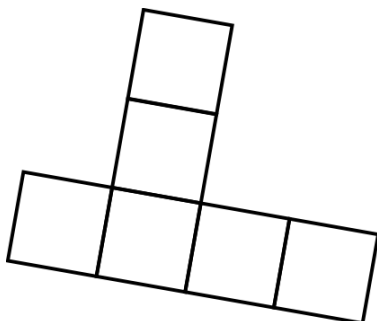
c) Sviluppo? Si No



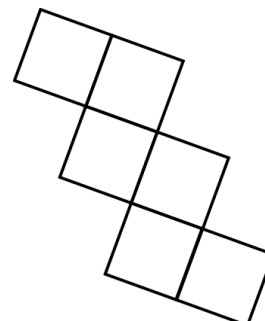
d) Sviluppo? Si No



e) Sviluppo? Si No



f) Sviluppo? Si No



Come hai trovato l'attività: facile difficile noiosa piacevole

...già finito? Il cubo ha un totale di 11 diversi sviluppi possibili. Prova a trovarne alcuni non ancora visti in questa attività (disegnali a matita sul retro del foglio)